

**Geografická olympiáda pre stredné školy, 47. ročník, školský rok 2018/2019,  
celoslovenské kolo, kategória – Z, časť – multimediálny test, zadania**

Meno a priezvisko	
Škola a trieda	
Kategória	Z
Počet bodov	

Na každú otázku typu A, B, C, D je práve jedna správna odpoveď. Na zodpovedanie každej otázky máte 30 sekúnd. Za každú správnu odpoveď získate 1 bod.

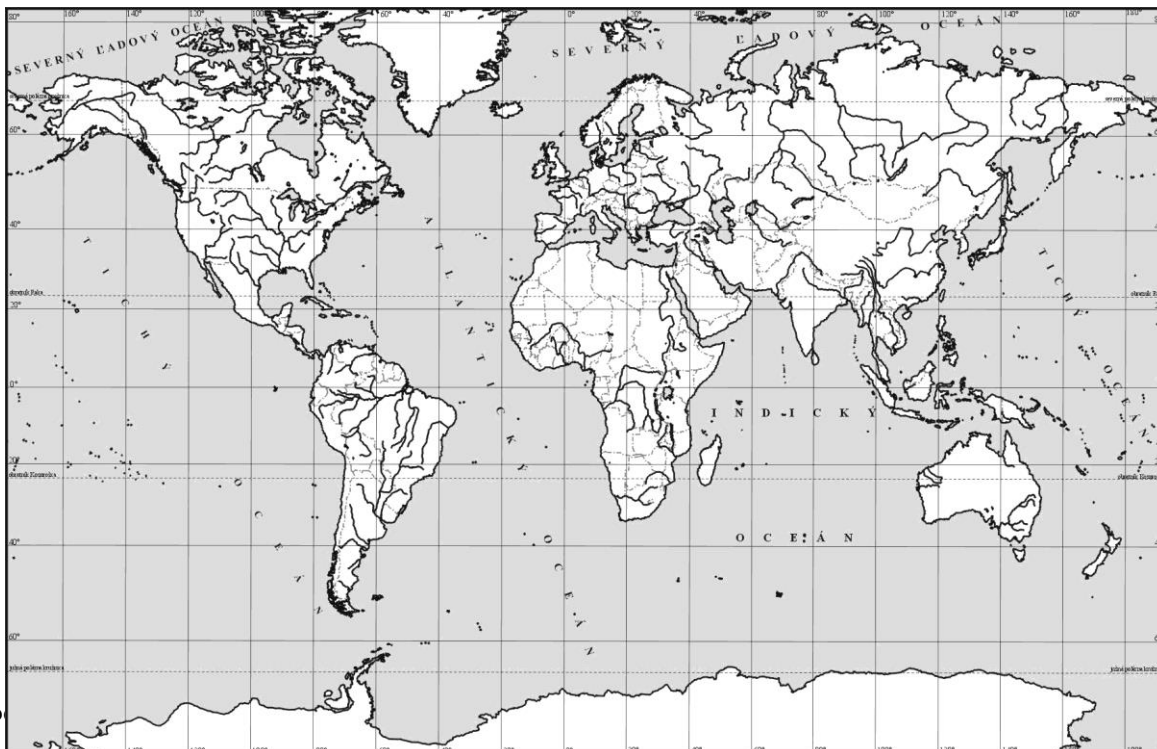
01. Na premietnutom obrázku je záber významného mesta v USA, dejiska olympijských hier. Nazýva sa aj mesto Coca-Coly. Určte, z ktorého mesta je fotografia. Odpoveď:



02. V ktorom z uvedených štátov sa nachádza známy Národný park a miesto, kde sa jazdí na safari Masai Mara?  
A) Tanzánia                      B) Malawi                      C) Keňa                      D) Južná Afrika

03. Zaznačte a pomenujte v obrysovej mape sveta hlavné mesto, ktoré premenovali iba nedávno (dva týždne) a pomenovali ho po dlhoročnom prezidentovi štátu. Odpoveď:

04. Zaznačte v obrysovej mape sveta región s výskytom najvýznamnejších mayských pamiatok. Odpoveď:



05. Kde sa budú hrať v tomto roku MS v ľadovom hokeji?

Odpoveď:

06. Na nasledujúcom videu sú typické zábery z mesta (bolo pustené video do 1:00 min - upravené):

Odpoveď:

07. Ktorý z uvedených štátov má najnižšie položené hlavné mesto?

- A) Mexiko                      B) Mongolsko                      C) Etiópia                      D) Švajčiarsko

08. Z čoho bol odvodený názov štátu Bolívia?

Odpoveď:

09. Kde (v ktorom z uvedených štátov) sú ťažia jazdci na koňoch a súťaž Buzkaši hrajú s telom kozy alebo jahňat'a?

- A) Honduras                      B) Tadžikistan                      C) Sudán                      D) Peru

10. Spln Mesiaca nastal 21.3.2019. Kedy nastane najbližší spln Mesiaca?


Odpoveď:

11. Do ktorého z uvedených miest sa z Bratislavy nedostanete diaľnicou alebo rýchlou cestou po celej trase?

- A) Košice                      B) Žilina                      C) Nitra                      D) Banská Bystrica

12. V ktorom štáte sa nachádza významná pamiatka vytesaná do kameňa Petra (na fotografii)?

Odpoveď:

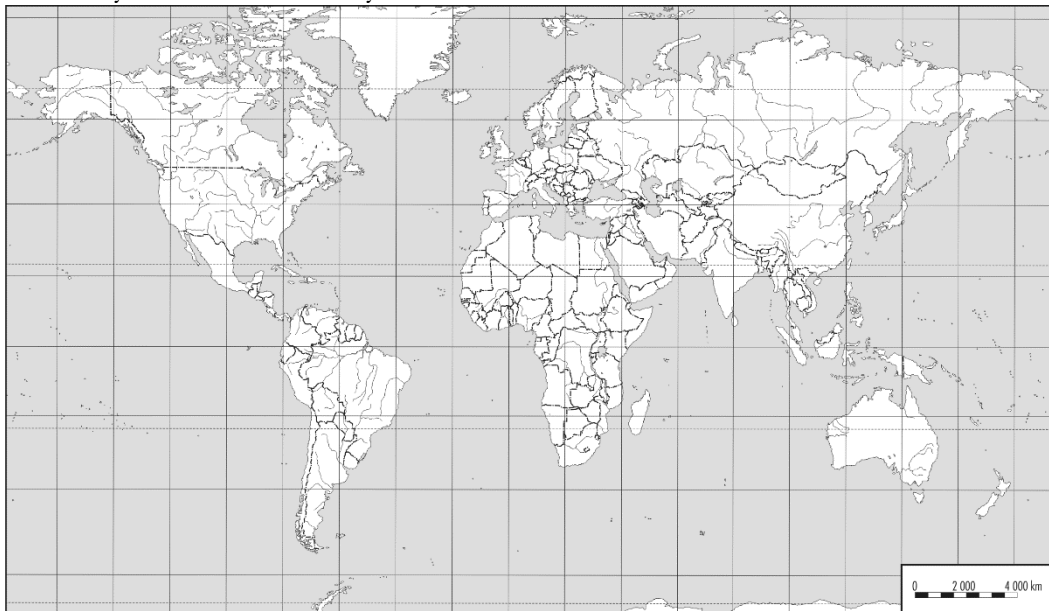


13. Ktoré hlavné mesto suverénneho štátu Zeme leží najjužnejšie na svete?

Odpoveď:

14. Na mape chýba jeden veľký ostrov. Ako sa nazýva?

Odpoveď:



body:

15. V roku 2019 sa dožil sto rokov významný český cestovateľ a spisovateľ. Ako sa volá?

Odpoveď:

16. Ktoré slovenské mesto leží najbližšie (cestnou vzdialenosťou) k moru?

Odpoveď:

17. V ktorom z uvedených sídel je arborétum?

- A) Bojnice                      B) Tesárske Mlyňany                      C) Poprad                      D) Spišská Nová Ves

18. Ktorý z uvedených štátov nemá prezidenta?

- A) Rusko                      B) USA                      C) Poľsko                      D) Austrália

19. Kto postúpil do druhého kola prezidentských volieb, ktoré sa konajú dnes?

- A) Harabin, Kotleba                      B) Čaputová, Šefčovič                      C) Šefčovič, Harabin                      D) Čaputová, Kotleba

20. Na ktorom z uvedených svetadielov žije najviac slonov?

- A) Austrália                      B) Afrika                      C) Amerika                      D) Ázia

21. V ktorom z uvedených štátov **nie je** úradným jazykom portugalčina?

- A) Kapverdy                      B) Brazília                      C) Angola                      D) Belize

22. V ktorom z uvedených štátov tvoria Poliaci najpočetnejšiu národnostnú menšinu?

- A) Slovensko                      B) Island                      C) USA                      D) Fínsko

23. Určte, ktorá plodina pochádza z juhovýchodnej Ázie?

- A) banán                      B) jablko                      C) kukurica                      D) káva

24. Vyznačte v mape a pomenujte oblasť s najväčším počtom drevených kostolíkov na Slovensku.



Odpoveď:

25. Určte, kto spieva nasledujúcu hudobnú skladbu. (pustená skladba)

Odpoveď:

**Autori:** Ladislav Tolmáči, Daniel Gurňák, Rastislav Cákoci  
**Recenzenti:** František Križan, Anna Tolmáči  
**Celoštátna komisia geografickej olympiády**  
**Vydal:** IUVENTA – Slovenský inštitút mládeže, Bratislava 2019

body: