

Geografická olympiáda pre stredné školy, 47. ročník, školský rok 2018/2019,
celoslovenské kolo, kategória – Z, časť – multimediálny test, riešenia

Meno a priezvisko	
Škola a trieda	
Kategória	Z
Počet bodov	

Na každú otázku typu A, B, C, D je práve jedna správna odpoveď. Na zodpovedanie každej otázky máte 30 sekúnd. Za každú správnu odpoveď získate 1 bod.

01. Na premietnutom obrázku je záber významného mesta v USA, dejiska olympijských hier. Nazýva sa aj mesto Coca-Coly. Určte, z ktorého mesta je fotografia.

Odpoveď: Atlanta



02. V ktorom z uvedených štátov sa nachádza známy Národný park a miesto, kde sa jazdí na safari Masai Mara?

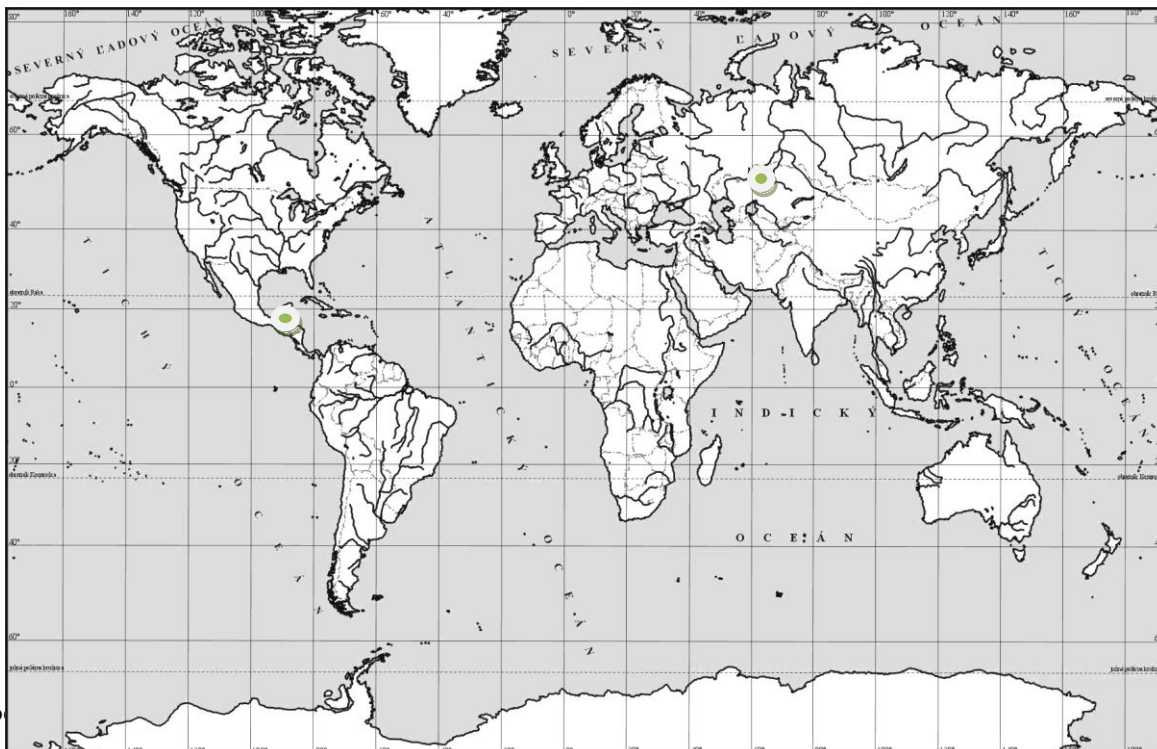
- A) Tanzánia B) Malawi C) Keňa D) Južná Afrika

03. Zaznačte a pomenujte v obrysovej mape sveta hlavné mesto, ktoré premenovali iba nedávno (dva týždne) a pomenovali ho po dlhoročnom prezidentovi štátu.

Odpoveď: Astana-Nursultan

04. Zaznačte v obrysovej mape sveta región s výskytom najvýznamnejších mayských pamiatok

Odpoveď: Stredná Amerika, Yucatán, Guatemala, Belize, Honduras



05. Kde sa budú hrať v tomto roku MS v Padovom hokeji?

Odpoveď: Slovensko

06. Na nasledujúcom videu sú typické zábery z mesta (bolo pustené video do 1:00 min - upravené):

Odpoveď: Levoča

07. Ktorý z uvedených štátov má najnižšie položené hlavné mesto?

A) Mexiko

B) Mongolsko

C) Etiópia

D) Švajčiarsko

08. Z čoho bol odvodený názov štátu Bolívia?

Odpoveď: z priezviska revolucionára Bolívara

09. Kde (v ktorom z uvedených štátov) sú ťažia jazdci na koňoch a sú ťaž Buzkaši hrajú s telom kozy alebo jahňat'a?

A) Honduras

B) Tadžikistan

C) Sudán

D) Peru

10. Spln Mesiaca nastal 21.3.2019. Kedy nastane najbližší spln Mesiaca?

Odpoveď: 19.4. uznať aj 18.4 a 20.4.

11. Do ktorého z uvedených miest sa z Bratislavy nedostanete diaľnicou alebo rýchlostnou cestou po celej trase?

A) Košice


B) Žilina

C) Nitra

D) Banská Bystrica

12. V ktorom štáte sa nachádza významná pamiatka vytesaná do kameňa Petra (na fotografii)?

Odpoveď: Jordánsko



13. Ktoré hlavné mesto suverénneho štátu Zeme leží najjužnejšie na svete?

Odpoveď: Wellington

14. Na mape chýba jeden veľký ostrov. Ako sa nazýva?

Odpoveď: Jáva



body:

15.] V roku 2019 sa dožil sto rokov významný český cestovateľ a spisovateľ. Ako sa volá?

Odpoveď: Zikmund

16.] Ktoré slovenské mesto leží najbližšie (cestnou vzdialenosťou) k moru?

Odpoveď: Bratislava

17.] V ktorom z uvedených sídel je arborétum?

A) Bojnice

B) Tesárske Mlyňany

C) Poprad

D) Spišská Nová Ves

18.] Ktorý z uvedených štátov nemá prezidenta?

A) Rusko

B) USA

C) Poľsko

D) Austrália

19.] Kto postúpil do druhého kola prezidentských volieb, ktoré sa konajú dnes?

A) Harabin, Kotleba

B) Čaputová, Šefčovič

C) Šefčovič, Harabin

D) Čaputová, Kotleba

20.] Na ktorom z uvedených svetadielov žije najviac slonov?

A) Austrália

B) Afrika

C) Amerika

D) Ázia

21.] V ktorom z uvedených štátov **nie je** úradným jazykom portugalčina?

A) Kapverdy

B) Brazília

C) Angola

D) Belize

22.] V ktorom z uvedených štátov tvoria Poliaci najpočetnejšiu národnostnú menšinu?

A) Slovensko

B) Island

C) USA

D) Fínsko

23.] Určte, ktorá plodina pochádza z juhovýchodnej Ázie?

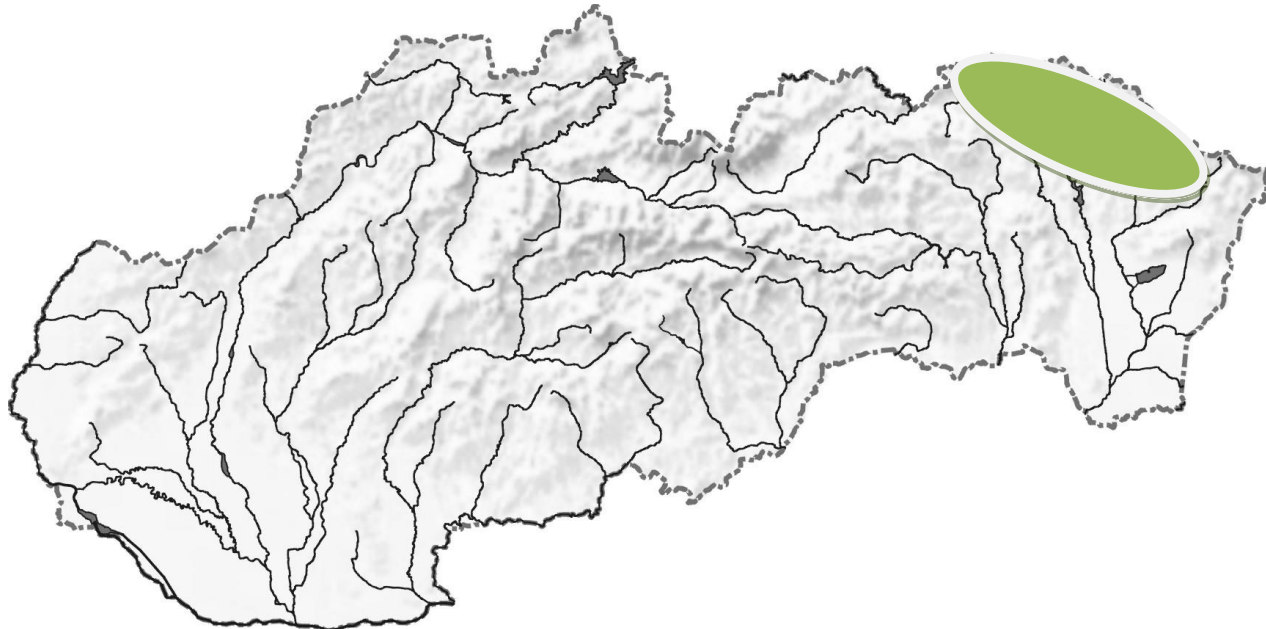
A) banán

B) jablko

C) kukurica

D) káva

24.] Vyznačte v mape a pomenujte oblasť s najväčším počtom drevených kostolíkov na Slovensku.



Odpoveď: Šariš

25.] Určte, kto spieva nasledujúcu hudobnú skladbu. (Bolo pustené audio - upravené)

Odpoveď: Sima Martausová

Zdroje:

Autori: Ladislav Tolmáči, Daniel Gurnák, Rastislav Cákoci

Recenzenti: František Križan, Anna Tolmáči

Celoštátna komisia geografickej olympiády

Vydal: IUVENTA – Slovenský inštitút mládeže, Bratislava 2019

body: