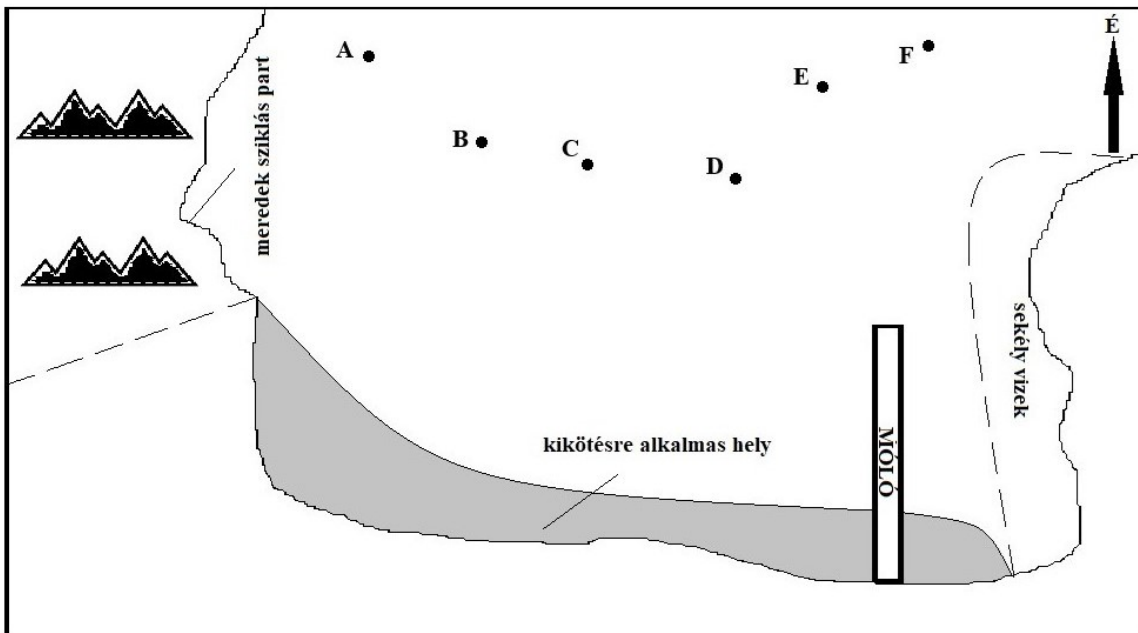


Okresné kolo Geografickej olympiády pre ZŠ a 8-ročné gymnázia
54. ročník, školský rok 2025/2026
Písomný test pre kategóriu G – ZŠ (5. ročník)
 Gyakorlati rész - feladatok

Név:
 Iskola: Osztály:
 Elért pontszám:

1. A következő képen egy öböl vázlatja látható, amelyben A–F betűkkel jelölt hajók találhatóak. A kép alatti táblázatban azok az irányok (haladási irányok) szerepelnek, amelyek mentén a hajók jelenleg haladnak.



Hajó:	A	B	C	D	E	F
Irány:	D	Ny	DK	K	DNy	ÉK

a) Melyik hajó halad a parttól kifelé (az öbölből kifelé)?

Mi vár a többi hajóra, ha nem változtatnak irányt? Oszd be őket 4 csoportba!

b) A meredek, sziklás parthoz érkeznek:

c) Fennáll a veszélye, hogy a mólónak ütköznek:

d) Fennáll a veszélye, hogy a sekély vízben fennakadnak:

e) Biztonságosan kikötnek a partnál:

f) Fennáll a veszélye, hogy az A és E hajó összeütközik, ha nem változtatnak irányt? **IGEN** **NEM**

g) Ha a móló végéről (a parttól legtávolabbi pontról) északnyugat felé nézünk, melyik hajó lesz közvetlenül előttünk? **C** **D** **E**

2. A Horváth család nyaralást tervezett Japánba. Betértek egy utazási irodába, hogy megnézzék, milyen ajánlatok vannak számukra. Az utazási iroda két csomagot ajánlott: nyaralást Honsú szigetén vagy nyaralást Hokkaidó szigetén.

a) Az atlasz segítségével oszd szét a következő látványosságokat, programokat és kirándulásokat, és a mellettük álló számokat írd a megfelelő helyre aszerint, hogy az utazási iroda melyik ajánlatában szerepeltek!

- 1 – utazás sincsanszen gyorsvonattal Morioka városából Sendai városába
- 2 – harcművészeti elemeket tartalmazó színházi előadás Tokugava Iejaszu sógun várában Kiotóban
- 3 – az ainuk hagyományos kultúrájának fesztiválja Asahikawa városában
- 4 – madárfotózás az Ohotszki-tenger partjain
- 5 – a forró Yagen Onsen forrás megtekintése a Simokita-félszigeten
- 6 – korcsolyázás az 1998-as téli olimpia csarnokában Naganóban
- 7 – levendulamezők meglátogatása Obihiro városa környékén
- 8 – tengeri ételek kóstolása a Matsumae-várnál az Oshima-félszigeten
- 9 – a béke emlékműve, az Atombomba-dóm Hirosimában
- 10 – hajózás a Biwa-tavon
- 11 – a Sitennódzsi buddhista templom megtekintése Oszakában
- 12 – pihenés a Hakone üdülőterület forró forrásaiban Tokió közelében
- 13 – feljutás az Asahi vulkánra a Daiszecuzan Nemzeti Parkban

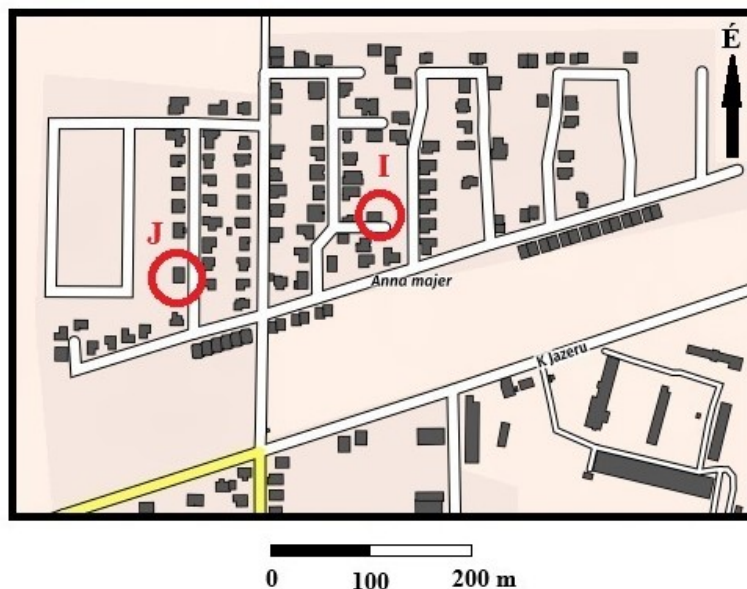
Nyarlás Honsú szigetén:

Nyarlás Hokkaidó szigetén:

A Horváth család végül Honsú szigetét választotta, júliusi időponttal. A bécsi repülőtérrel közvetlen járattal repültek Japán fővárosába. A repülőjük **kedden 16:00-kor** indult. A repülés pontosan **12 óráig** tartott.

- b) Hány óra volt Honsú szigetén, amikor leszálltak? 6:00 9:00 12:00 15:00 22:00 23:00
- c) Milyen nap volt Japánban, amikor leszálltak? kedd szerda csütörtök péntek

3. A következő térképen két ház van bekarikázva, ahol Ivica (I) és Jana (J) laknak, akik az iskolában osztálytársak. A lányok házi feladatként azt kapták földrajzból, hogy írják le a haladási irányokat, amikor meglátogatták egymást.



- a) Jana feljegyezte a füzetébe a mozgásának irányait, amikor Ivicához ment, de két hibát vétett. Húzd át a két hibás irányt, és javítsd ki helyesre!

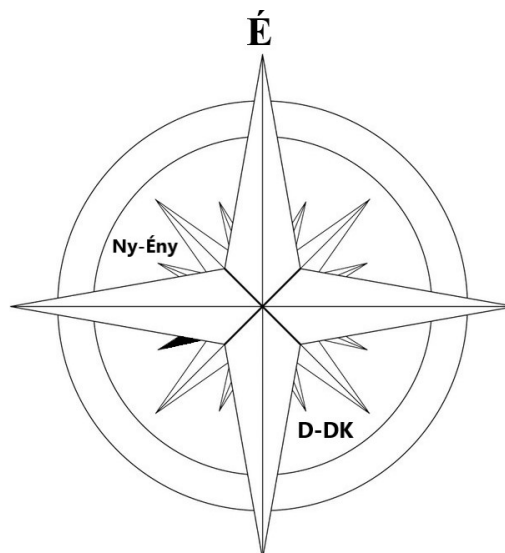
D – ÉNy – É – ÉK – Ny

- b) Ivica is feljegyezte a füzetébe a saját mozgásának irányait, amikor ugyanazon az útvonalon ment Janához. Nála minden helyes volt. Hogyan nézett ki Ivica feljegyzése? - - - -

- c) Milyen hosszú az utca, amelyben Jana lakik? Karikázd be a helyes választ!

75 m 115 m 180 m 210 m 280 m

4. Iránytű vagy tájoló használatakor általában 4 fő- (É, D, K, Ny) és 4 mellékégtájat (ÉK, DK, ÉNy, DNy) használunk. A mellékégtájak a főégtájak között „középen” helyezkednek el. Például: a dél és a kelet között található délkelet (DK). A tengerészeknek azonban pontosabban kell tájékozódniuk, ezért olyan iránytűt használnak, amelyen nem 8, hanem 16 irányt jelöl (a jobb oldali ábrán). A fő és mellékégtájak mellett további 8 irányt használnak, amelyek mindig egy fő- és egy mellékégtáj között helyezkednek el. Például: a dél és a délkelet között található dél–délkelet, amelyet D-DK jelöléssel írnak. A nyugat és az északnyugat között található nyugat–északnyugat, amelyet Ny-Ény jelöléssel írnak.



a) Mi a neve annak az égtájnak, amelyet az ábrán fekete színnel jelöltek? (Írd le a **nevét**, ne a rövidítését.)

.....

b) Színezd ki az ábrán az észak–északkelet irányt, és jelöld É-ÉK-ként.

c) Az alábbi jelölések közül melyiket nem használják a tengerészeti iránytűn? Karikázd be a helyes választ!

K-ÉK É-ÉNy É-DNy D-Dny

d) Melyik égtáj található a dél–délkelettel ellenkező irányban?

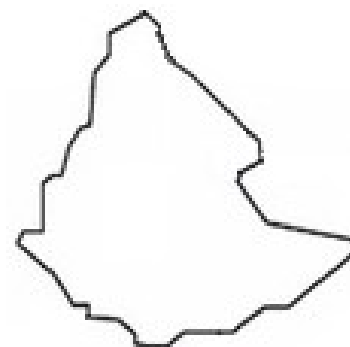
északnyugat észak–északnyugat dél–délnyugat

5. Tamás megpróbálta a földrajzfüzetébe átrajzolni egy északi féltekén fekvő afrikai ország határait, amelyről éppen az iskolában tanultak. Nem figyelt azonban, és egyetlen ország helyett három ország területét rajzolta át az atlaszból (lásd az ábrát).

a) Melyek voltak ezek?

.....

Az az ország, amelyet Tamás eredetileg át akart rajzolni, a három átrajzolt közül a legnagyobb volt. Tamásnak az atlaszban két kérdésre kellett választ találnia erről az országról:



b) Élnek-e ebben az országban iszlám vallású emberek?

c) Termesztenek-e ebben az országban kávécserejét?