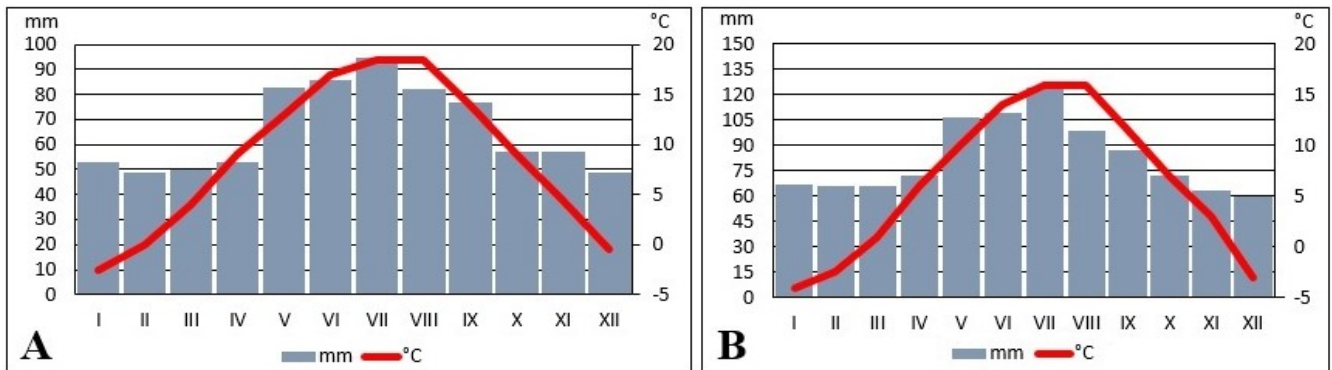


Okresné kolo Geografickej olympiády pre ZŠ a 8-ročné gymnáziá
54. ročník, školský rok 2025/2026
Písomný test pre kategóriu E – ZŠ (8. a 9. ročník) a OG (3. a 4. ročník)
 *Monotematikus és elméleti rész - feladatok

Név:
 Iskola: Osztály:
 Elért pontszám: Ebből a monotematikus részben (*):


1. *A képen klimadiagramok láthatók, amelyek két szlovákiai helyen mért átlagos havi levegőhőmérsékleteket és havi csapadékmennyiségeket mutatnak ugyanabban az évben. A két hely ugyanazon a szélességi körön fekszik. Nézd meg figyelmesen, majd karikázd be a helyes válaszokat az ábra alatti kérdésekre.



- a) Melyik hónapban volt a **B** helyen ugyanakkora az átlagos levegőhőmérséklet, mint **januárban** az **A** helyen?
 január február egyik sem
- b) Hány liter víz gyűlne össze az esőből **márciusban** az **A** helyen egy 1 m² alapterületű, négyzet alakú medencében?
 0,5 liter 5 liter 7 liter 35 liter 50 liter
- c) Melyik helyen mérték **több** csapadékot **júliusban**? A B
- d) Melyik hely fekszik magasabban a tengerszint felett? A B
- e) Melyik hónapban mérték mindkét helyen azonos csapadékmennyiséget?
 február április egyik sem
2. *Misi sok földrajzi témájú dokumentumfilmet néz. Osztálytársainak gyakran mesél arról, milyen érdekességeket tudott meg belőlük. Mely állításai igazak, és melyekben tévedett?
- a) Szlovákiában lehet sarki fényt látni, de csak a nyári hónapokban. IGAZ HAMIS
- b) A sarki fény leggyakrabban zöldes színű. IGAZ HAMIS
- c) Az ózon oxigénatomokból áll. IGAZ HAMIS
- d) A Mount Everesten alacsonyabb a légnyomás, mint a Lomnici-csúcson. IGAZ HAMIS
- e) A történelem során a legmagasabb levegőhőmérsékletet az indiai Halál-völgyben mérték. IGAZ HAMIS
3. Igazak-e a következő állítások Kelet-Szlovákia legnagyobb városáról? Karikázd be helyesen az IGEN vagy NEM választ.
- a) A kassai (Košice) Szent Erzsébet-dóm Szlovákia legnagyobb temploma. IGEN NEM
- b) A Szent Erzsébet-dóm harangtoronyát Flórián-toronynak hívják. IGEN NEM
- c) Kassa (Košice) címerében liliumok és sas látható. IGEN NEM
- d) Kassa (Košice) az egyik volt szlovák köztársasági elnök szülővárosa. IGEN NEM
- e) A 2021-es népszámláláskor Kassa (Košice) lakosságának 25%-a roma nemzetiségűnek vallotta magát. IGEN NEM
- f) A kassai (Košice) Állami Filharmónia a Művészetek Házában működik, amely egykor zsidó zsinagóga volt. IGEN NEM
- g) Kassának (Košice) több városrésze van, mint a fővárosnak. IGEN NEM

- h) A Kassa (Košice) területén működő ipari vállalatok közül a legtöbb alkalmazottat az U. S. Steel foglalkoztatja. IGEN NEM
- i) Szlovákia Alkotmánybírósága Kassán (Košice) található. IGEN NEM
- j) Kassán (Košice) állatkert és botanikus kert is látogatható. IGEN NEM
4. Készíts anyagot Szlovákia enciklopédiájához!

- a) A szlovákiai alföldek körvonalaihoz írd be a nevüket és a megfelelő tengerszint feletti magassági tartományt.
A következő értékek közül választhatsz: **94 – 397** **107 – 370** **136 – 434**

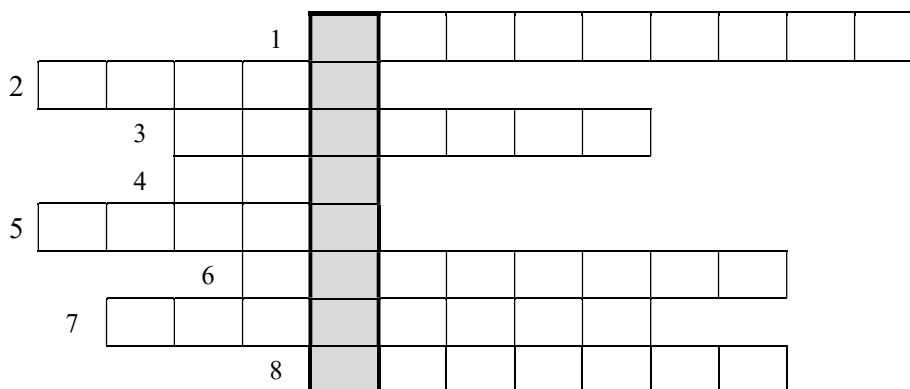


- b) Karikázd be a mondatban a helyes kifejezést, amely Szlovákia enciklopédiájában az alföldekről szóló fejezet elején állna:

A Szlovákia területén található alföldek egy kiterjedt belső medence részét képezik, amelyet **Közép-európai- / Magyar- / Pannon**-medencének neveznek.

5. Egészítsd ki a keresztrejtvényt a szlovák főváros turisztikai látványosságairól szóló szövegben elrejtett fogalmakkal (1-től 8-ig), majd add meg a rejtvény megfejtését! **[Szlovákul!]**

Fővárosunk sok látnivalót kínál a turistáknak. Több közülük a városközpontban, a [Staré (2)] városrész műemléki rezervátumában található. A város legszembevetőbb jelképe természetesen a vár. Alatta található a gyönyörű gótikus [Dóm svätého (8)], ahol Mária Teréziát koronázták. A szűk utcákon keresztül a turisták eljutnak az egyetlen fennmaradt városkapuhoz, amelyet [(6) brána]-nak neveznek. Szép kilátás nyílik a városra a(z) [(4)] nevű étteremből, amely egy repülő csészealjra emlékeztet. Ez az SZNF-híd 84 méter magas pilonjának tetején található. A hídon át lehet jutni a Duna jobb partjára, a legnagyobb pozsonyi (Bratislava) városrészbe, amelynek neve [(1)]. Ha a turisták hajlandók elhagyni a városközpontot, érdemes megnézniük a 10 km-re lévő [(5)] vár romjait a Duna és a Morva folyó összefolyásánál, vagy a [(7)] római katonai tábor [(3)] városrészben, amely a Szlovákia területén található legújabb UNESCO világörökségi helyszín része.



Megfejtés: _____

Mit jelent a rejtvény megfejtése? Jelöld X-szel a helyes választ!

- a pozsonyi (Bratislava) kikötő régi neve
- Pozsony (Bratislava) latin neve a középkorban
- a várhegy ószláv neve

6. Amerika térképén A, B, C és D betűkkel jelölték azokat a helyeket, ahol négy fiú él: **Amaru** (A), **Badi** (B), **Cario** (C) és **Dari** (D).

a) Olvasd el a 2025. március 12-i chatbeszélgetésüket, majd írd be a megfelelő fiú nevét a szöveg melletti téglalapba.

2025. március 12.

- Sziasztok! Nagyon unatkozom. 😞 Nálunk már hét hónapja minden nap esik, és még folytatódni fog. Milyen az idő nálatok?
- Nálunk is esik, de az esős évszak lassan véget ér, és fél év száraz idő következik. Tegnap gyönyörű szivárványt láttunk.
- Én egyáltalán nem használok esernyőt, nálunk soha nem esik. Szivárványt évek óta nem láttam.
- Nálunk nincs tél és nincs nyár, de még tavasz vagy ősz sem. Egész évben ugyanolyan az időjárás.
- Ahogy mondtam, nálunk véget ér a nyár. A leghidegebb hónap július, de a napi átlag még mindig 20–22 °C.
- Jó neked! Nálunk ma délben 34 °C volt, tegnap 36 °C. Kint semmit sem lehet csinálni. 😞
- Nálunk éjjel majdnem ugyanolyan meleg van, mint nappal. Olyan hőséget még soha nem éltem át, mint nálatok.
- Tegnap a tévében bemondták, hogy még mindig az északkeleti passzát hatása alatt vagyunk, és kellemes idő lesz.
- Passzát? Az valami szél? A tévében láttam, hogy a gyerekek sárkányt reptetnek. De nálunk az év nagy részében szélszend van. 😞
- Örülj neki! Ha olyan hurrikánokat élnél át, mint nálunk, örülnél a szélszendnek. 😞



b) Később a beszélgetéshez csatlakozott a Dél-Afrika déli részén élő Neo is. Melyik amerikai fiú él hasonló éghajlati körülmények között, mint Neo? Karikázd be a nevét!

Amaru Badi Cario Dari

c) Hogyan nevezik ezt az éghajlatot? Karikázd be!

trópusi szubtrópusi arktikus

d) Melyik fiú mondhatja, hogy lakóhelyének éghajlatát hideg tengeráramlás befolyásolja?

Amaru Badi Cario Dari

Autor: Mgr. Gabriela Nováková, PhD.

Recenzent: RNDr. Hilda Kramáreková, PhD.

Preklad: RNDr. Ferenc Zirig

Slovenská komisia Geografickej olympiády

Vydal: NIVAM – Národný inštitút vzdelávania a mládeže, Bratislava 2026